

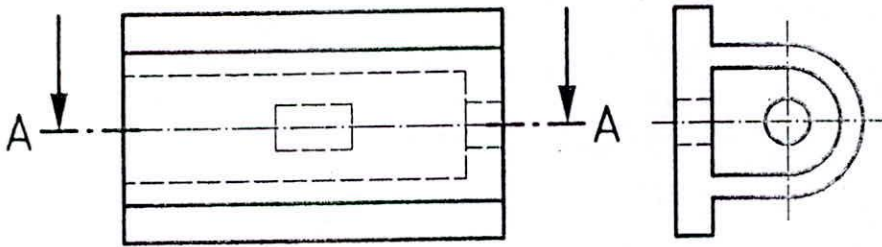
KIỂM TRA GIỮA HỌC KỲ
MÔN HỌC : VẼ KỸ THUẬT
Thời lượng : 45 phút

Đề : Câu 1: Vẽ hình cắt toàn phần A-A.

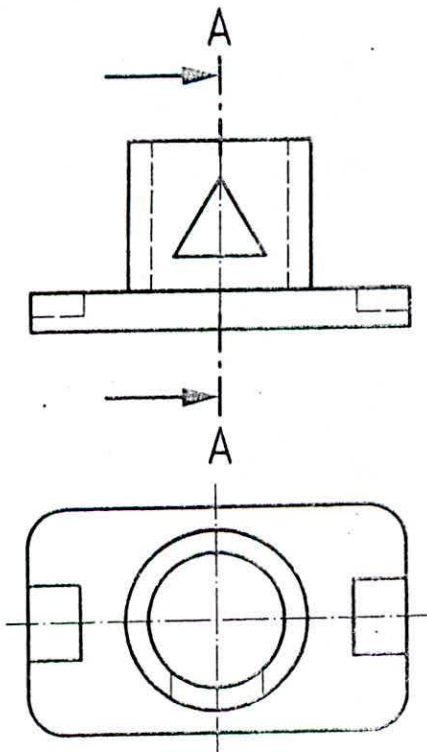
Câu 2: Sử dụng một cách hợp lý các loại hình cắt để thiết lập hình cắt A-A.

Chú ý : Sinh viên không được sử dụng tài liệu khi làm bài.

Câu 1: 5 điểm



Câu 2: 5 điểm



Họ và Tên :

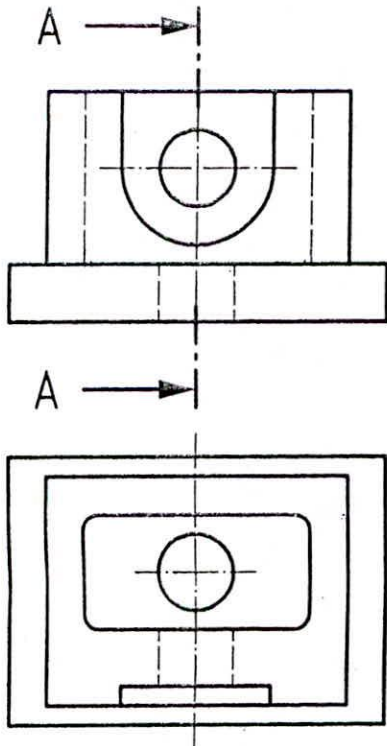
Lớp :

Mã số SV :

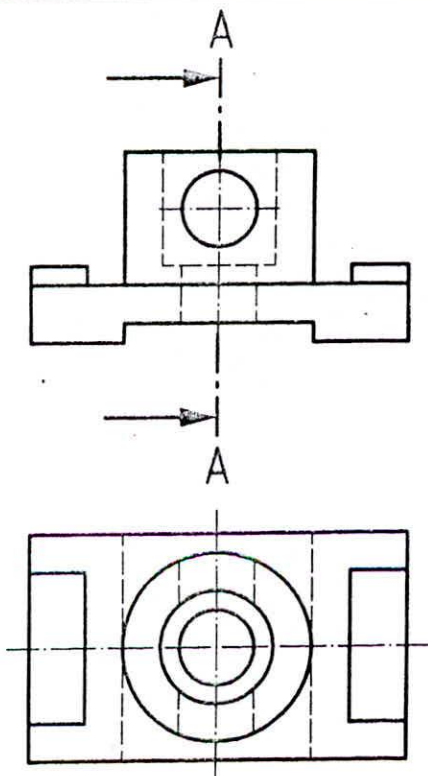
KIỂM TRA GIỮA HỌC KỲ
MÔN HỌC : VẼ KỸ THUẬT
Thời lượng : 45 phút

- Đề :** Câu 1: Vẽ hình cắt toàn phần A-A.
Câu 2: Sử dụng một cách hợp lý các loại hình cắt để thiết lập hình cắt A-A.
Chú ý : Sinh viên không được sử dụng tài liệu khi làm bài.

Câu 1: 5 điểm



Câu 2: 5 điểm



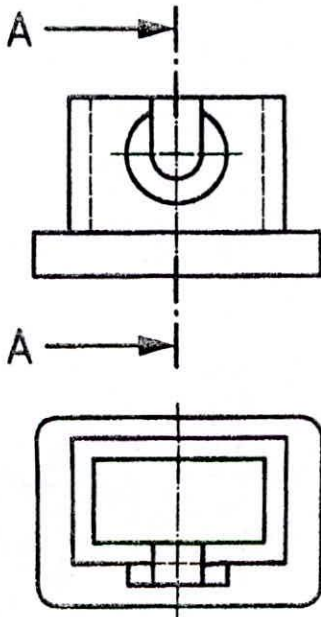
Họ và Tên :
Lớp :
Mã số SV :

KIỂM TRA GIỮA HỌC KỲ
MÔN HỌC : VẼ KỸ THUẬT

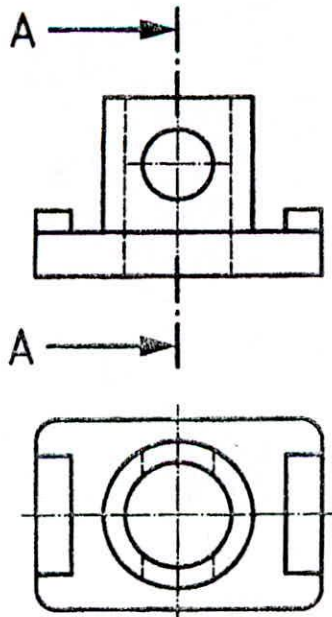
Thời lượng : 45 phút

Đề : Cho hai hình chiếu vuông góc của một vật thể. Hãy vẽ thêm hình cắt của vật thể ấy theo ký hiệu đã chỉ định (Cả phần thấy và phần khuất).

Chú ý : Sinh viên không được sử dụng tài liệu khi làm bài.



Câu 1 : (5 điểm)



Câu 2 : (5 điểm)

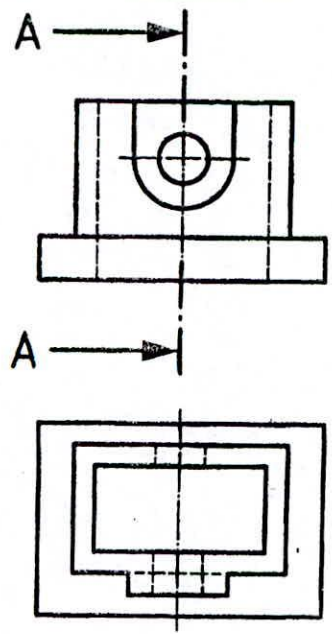
Họ và Tên :
Lớp :
Mã Số :

KIỂM TRA GIỮA HỌC KỲ
MÔN HỌC : VẼ KỸ THUẬT

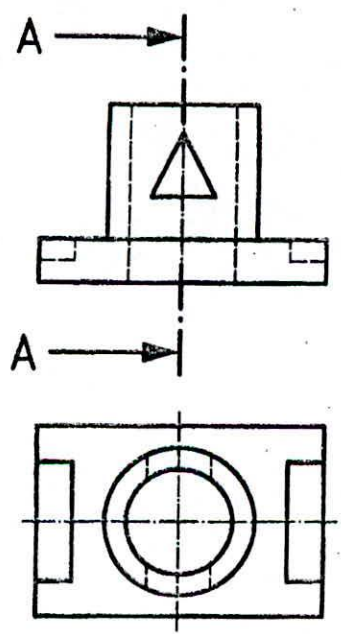
Thời lượng : 45 phút

Đề : Cho hai hình chiếu vuông góc của một vật thể. Hãy vẽ thêm hình cắt của vật thể ấy theo ký hiệu đã chỉ định (Cả phần thấy và phần khuất).

Chú ý : Sinh viên không được sử dụng tài liệu khi làm bài.



Câu 1 : (5 điểm)



Câu 2 : (5 điểm)

Họ và Tên :
Lớp :
Mã Số :

Jul

ĐỀ : 01

Bộ Môn Hình Hoa - Vẽ Kỹ Thuật

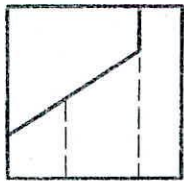
KIỂM TRA GIỮA HỌC KỲ
MÔN HỌC : VẼ KỸ THUẬT
Thời lượng : 60 phút

Chữ ký :


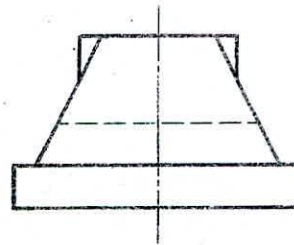
Đề : Cho hai hình chiếu vuông góc của một vật thể. Hãy vẽ thêm hình chiếu thứ ba của vật thể ấy (Cả phần thấy và phần khuất).

Chú ý : Sinh viên không được sử dụng tài liệu khi làm bài.



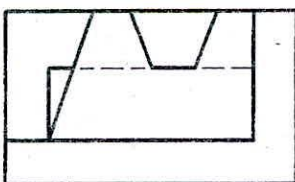
Câu 1 : (3 điểm)



Câu 2 : (3 điểm)



Câu 3 : (4 điểm)



Họ và Tên :
Lớp :
Mã Số :

**KIỂM TRA GIỮA HỌC KỲ
MÔN HỌC : VẼ KỸ THUẬT**

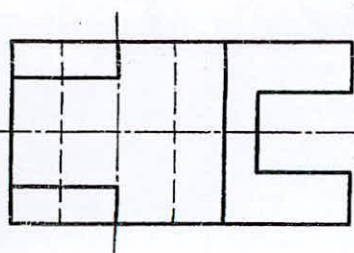
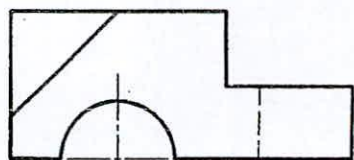
Thời lượng : 60 phút

Chữ.ký : ... Quynh

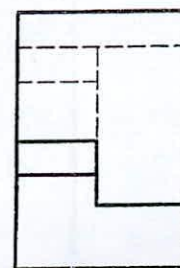
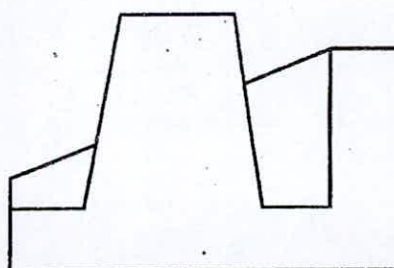
Đề : Cho hai hình chiếu vuông góc của một vật thể. Hãy vẽ thêm hình chiếu thứ ba của vật thể ấy (Cả phần thấy và phần khuất).

Chú ý : Sinh viên không được sử dụng tài liệu khi làm bài.

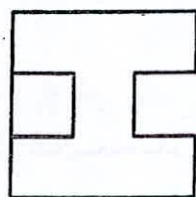
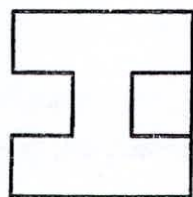
Câu 1 : (3 điểm)



Câu 2 : (4 điểm)



Câu 3 : (3 điểm)



Họ và Tên :

Lớp :

Mã Số :

KIỂM TRA GIỮA HỌC KỲ
MÔN HỌC : VẼ KỸ THUẬT

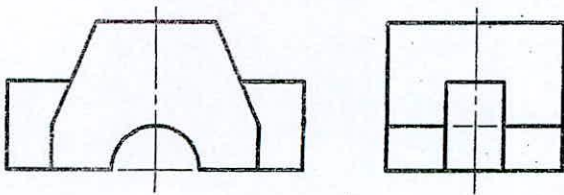
Thời lượng : 60 phút

Chữ ký :

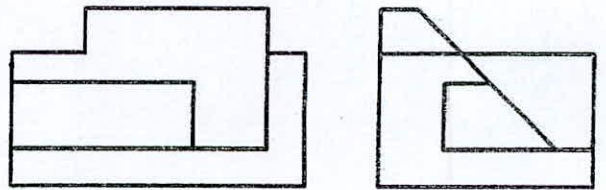
Đề : Cho hai hình chiếu vuông góc của một vật thể. Hãy vẽ thêm hình chiếu thứ ba của vật thể ấy (Cả phần thấy và phần khuất).

Chú ý : Sinh viên không được sử dụng tài liệu khi làm bài.

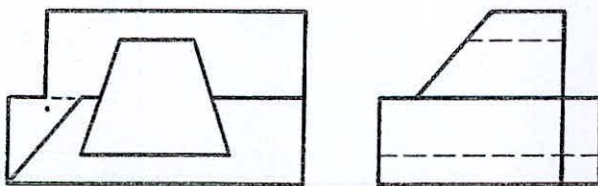
Câu 1 : (3 điểm)



Câu 2 : (3 điểm)



Câu 3 : (4 điểm)



Họ và Tên :
Lớp :
Mã Số :

KIỂM TRA GIỮA HỌC KỲ
MÔN HỌC : VẼ KỸ THUẬT

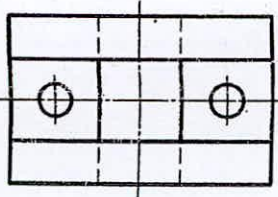
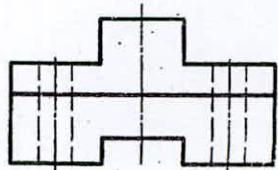
Thời lượng : 60 phút

Chữ ký : ...*Paul*.....

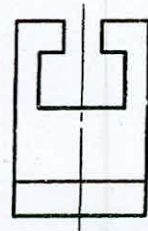
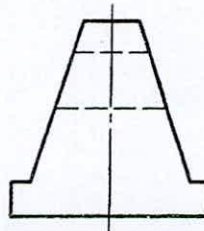
Đề : Cho hai hình chiếu vuông góc của một vật thể. Hãy vẽ thêm hình chiếu thứ ba của vật thể ấy (Cả phần thấy và phần khuất).

Chú ý : Sinh viên không được sử dụng tài liệu khi làm bài.

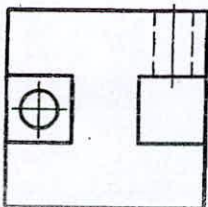
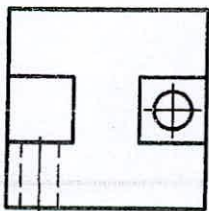
Câu 1 : (3 điểm)



Câu 2 : (4 điểm)



Câu 3 : (3 điểm)



Họ và Tên :
Lớp :
Mã Số :